

# Ciferníky

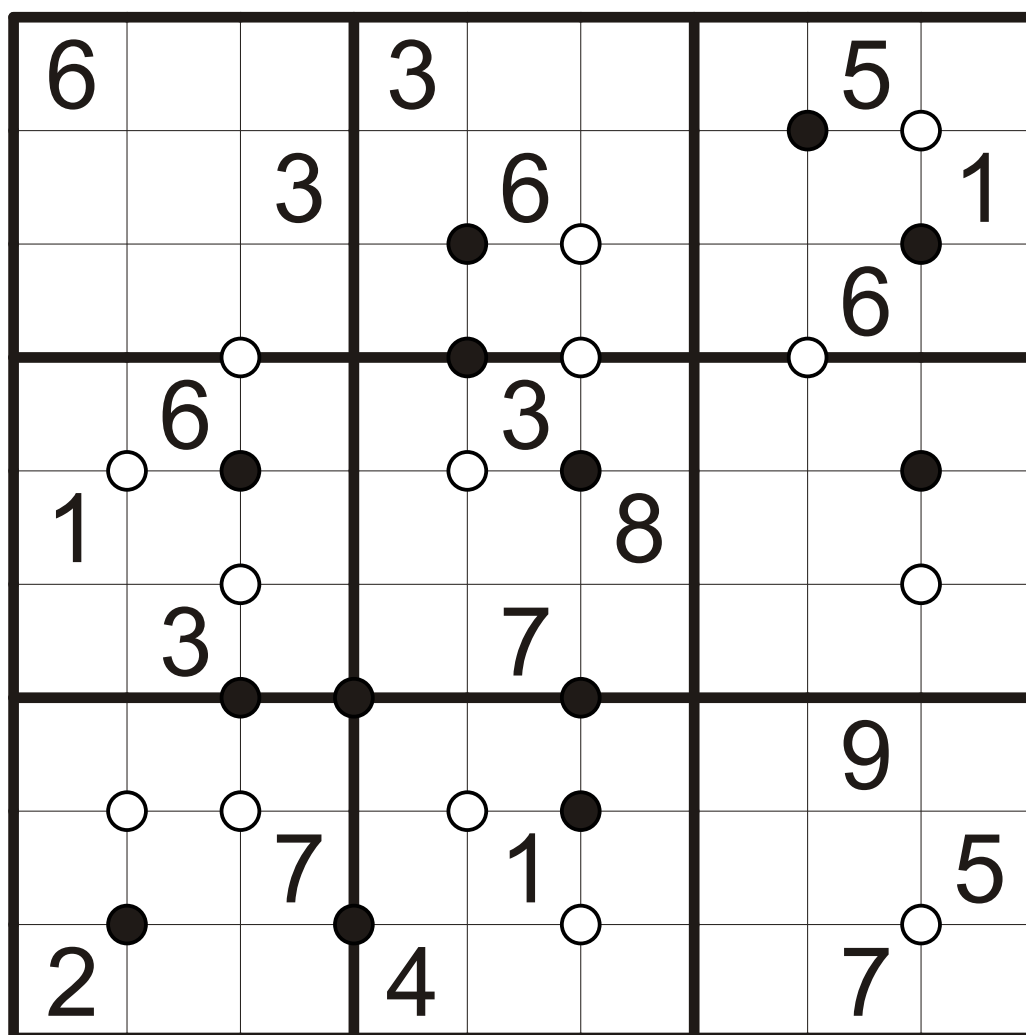
Vyplňte tabulku čísly 1 až 9 podle pravidel klasického sudoku.

Číslo okolo bílého ciferníku jsou seřazena podle velikosti ve směru hodinových ručiček.

Číslo okolo černého ciferníku jsou seřazena podle velikosti proti směru hodinových ručiček.

Všechny ciferníky jsou vyznačeny.

9	5
1	3
5	4



KP CI 1

# Ciferníky

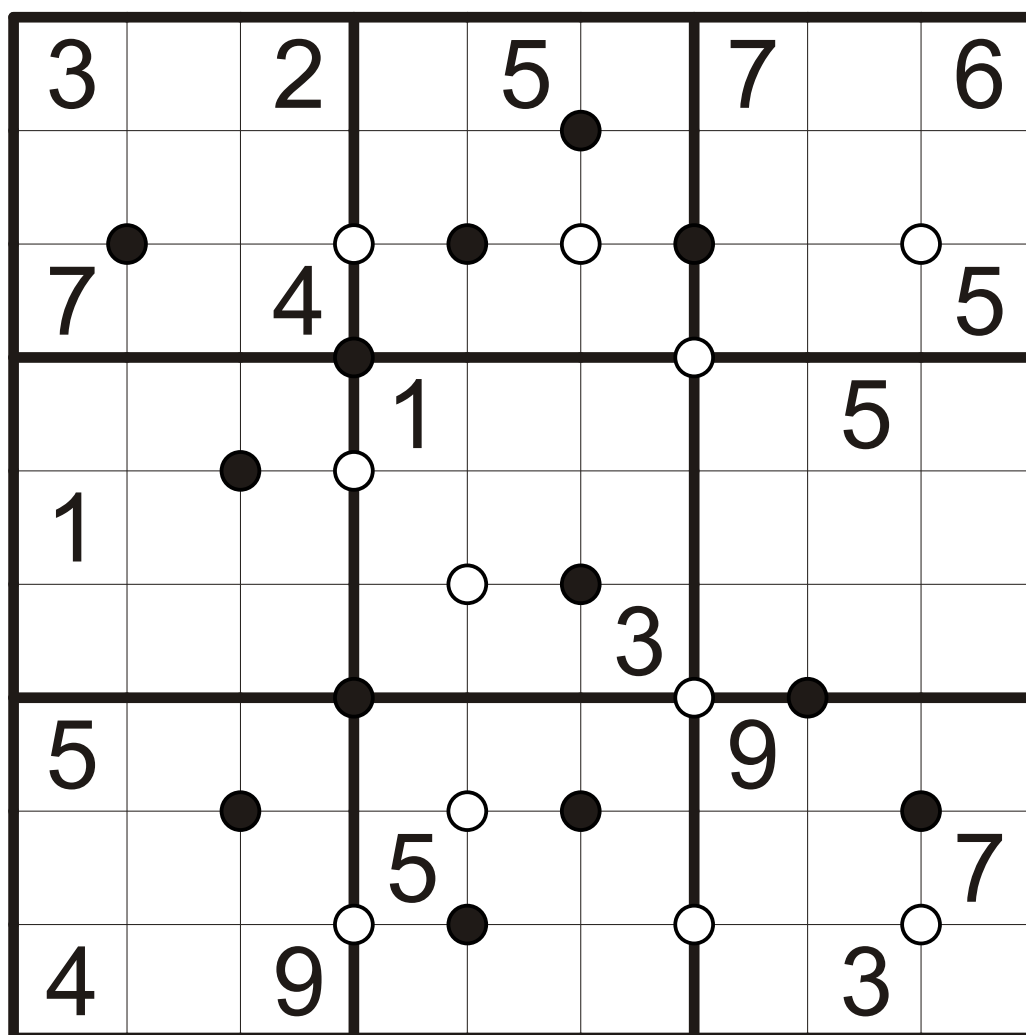
Vyplňte tabulku čísly 1 až 9 podle pravidel klasického sudoku.

Číslo okolo bílého ciferníku jsou seřazena podle velikosti ve směru hodinových ručiček.

Číslo okolo černého ciferníku jsou seřazena podle velikosti proti směru hodinových ručiček.

Všechny ciferníky jsou vyznačeny.

9	5
1	3
5	4



KP CI 2

# Ciferníky

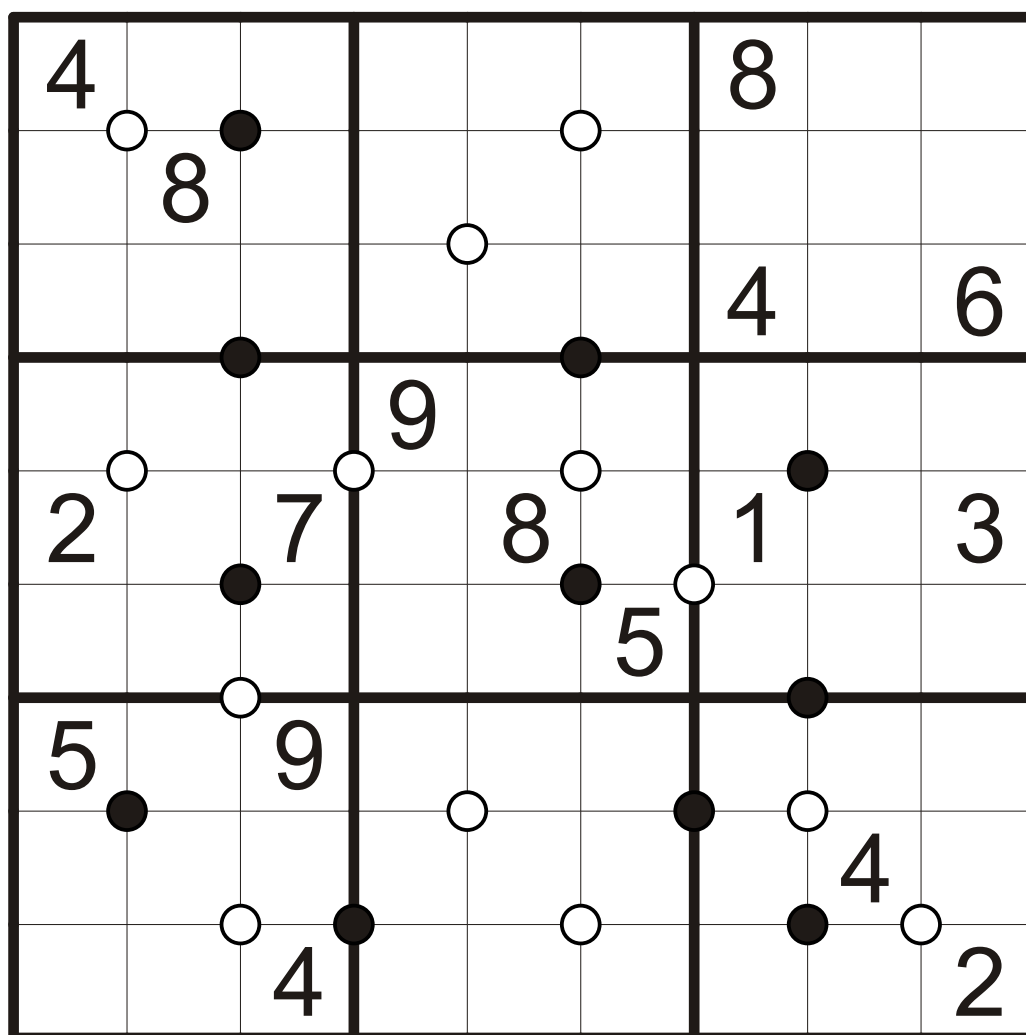
Vyplňte tabulku čísly 1 až 9 podle pravidel klasického sudoku.

Číslo okolo bílého ciferníku jsou seřazena podle velikosti ve směru hodinových ručiček.

Číslo okolo černého ciferníku jsou seřazena podle velikosti proti směru hodinových ručiček.

Všechny ciferníky jsou vyznačeny.

9	5
1	3
5	4



KP CI 3

# Ciferníky

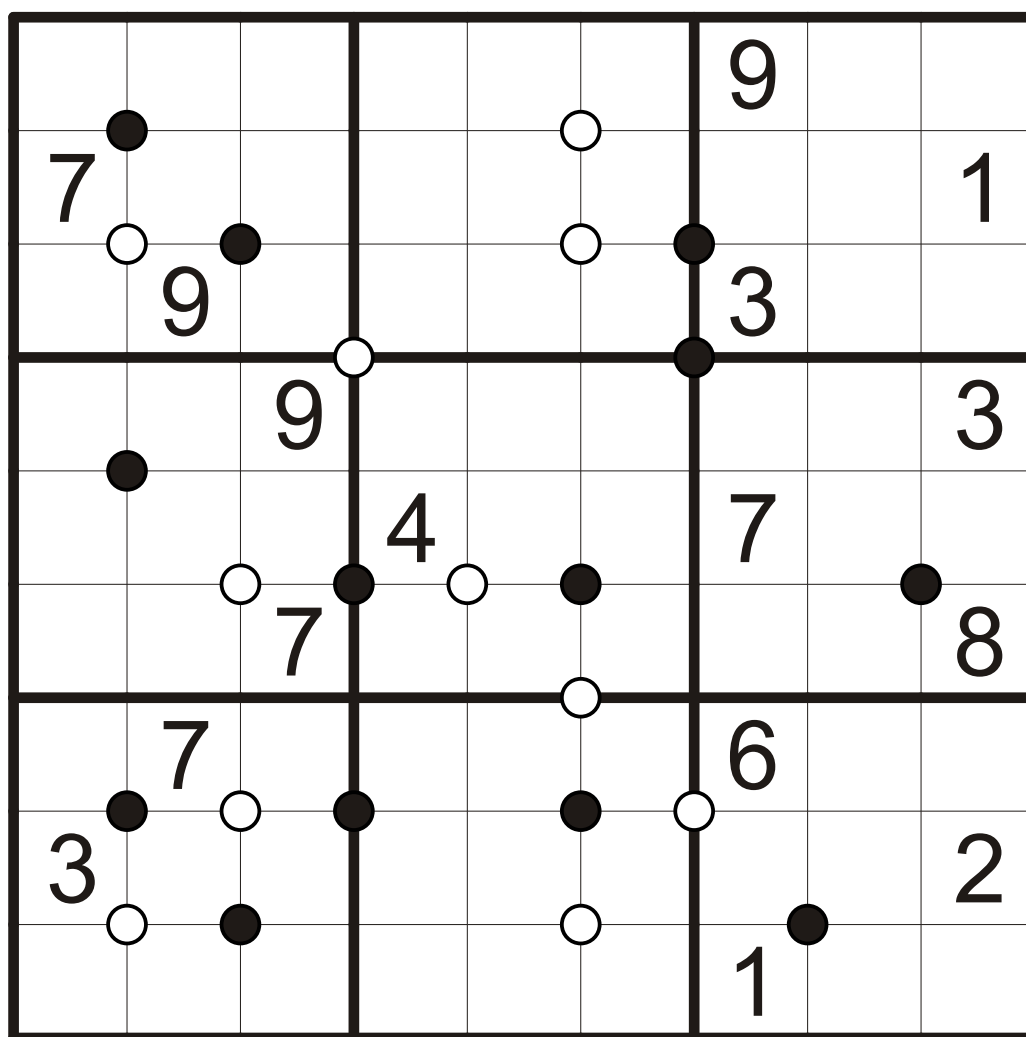
Vyplňte tabulku čísly 1 až 9 podle pravidel klasického sudoku.

Číslo okolo bílého ciferníku jsou seřazena podle velikosti ve směru hodinových ručiček.

Číslo okolo černého ciferníku jsou seřazena podle velikosti proti směru hodinových ručiček.

Všechny ciferníky jsou vyznačeny.

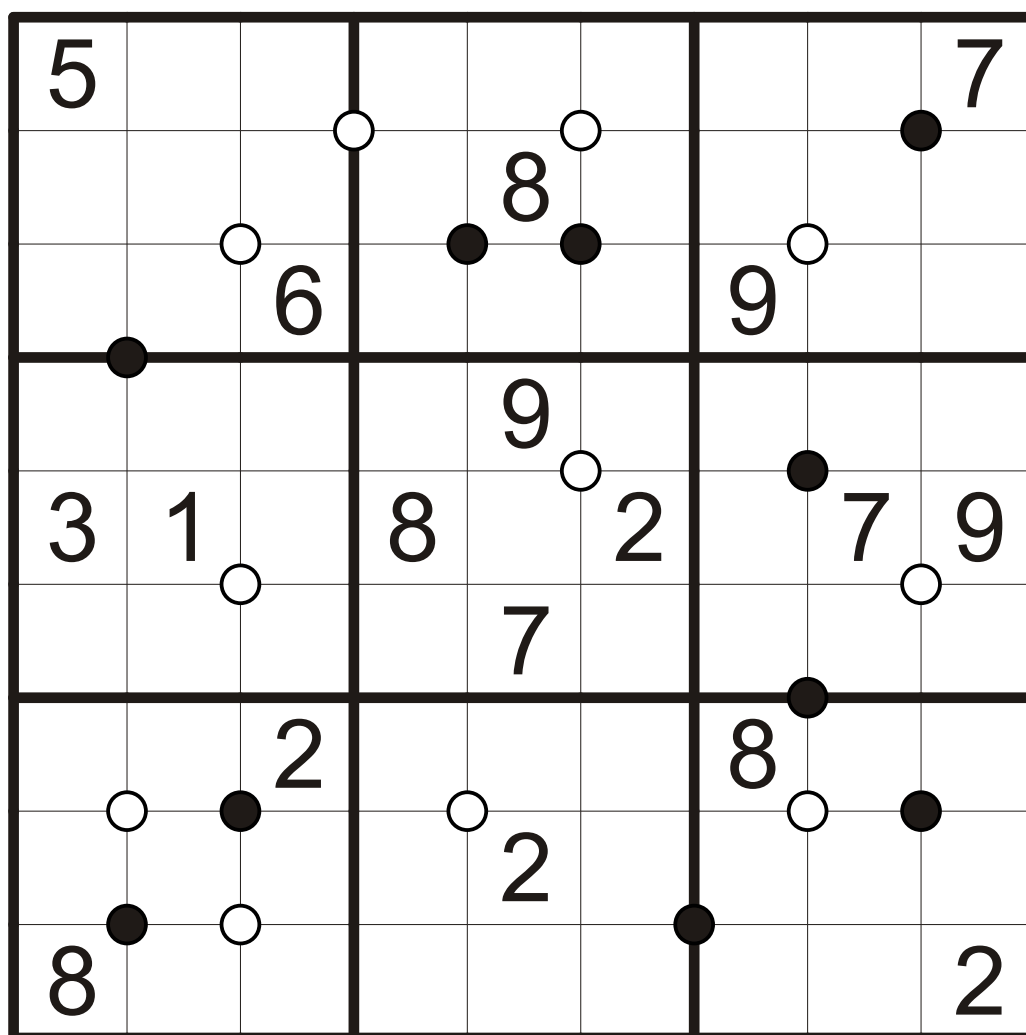
9	5
1	3
5	4



KP CI 4

Všechny ciferníky jsou vyznačeny.

9	5
1	3
5	4



KP C| 5

# Ciferníky

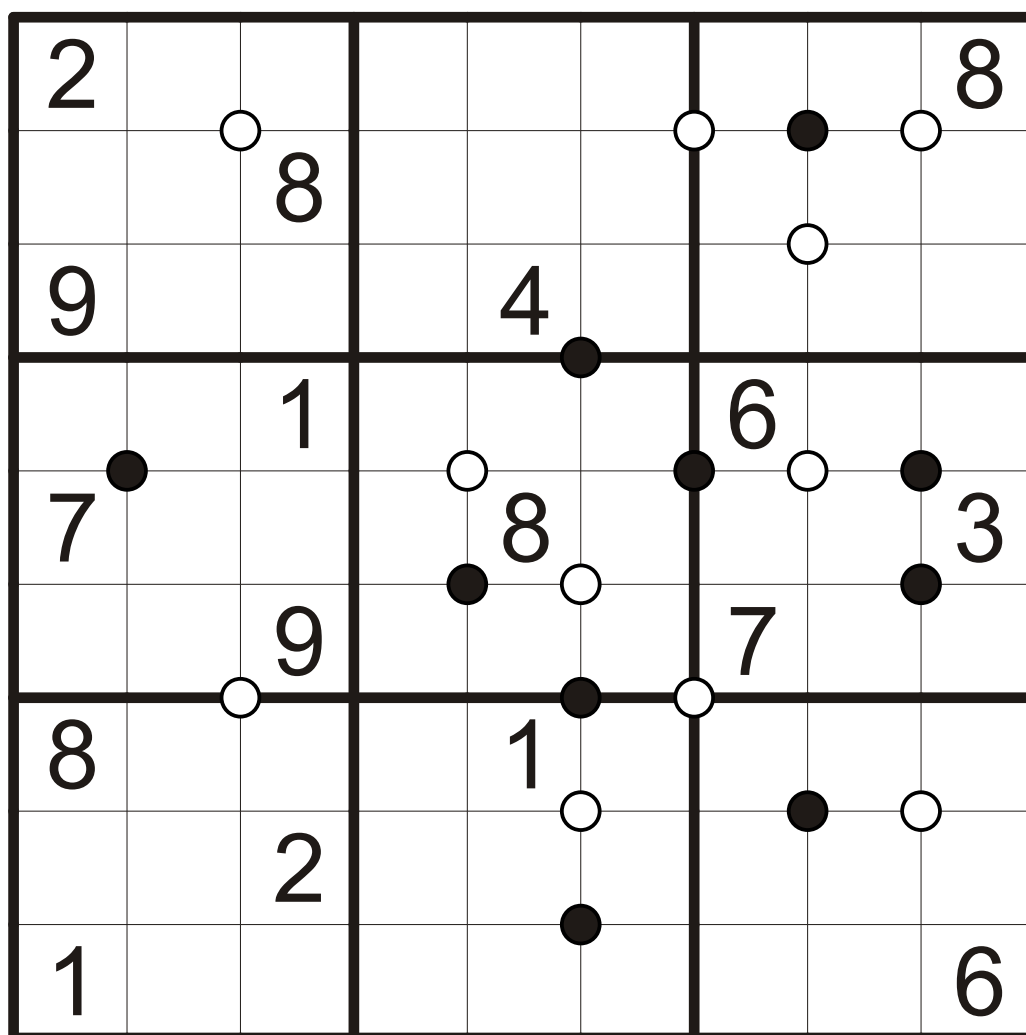
Vyplňte tabulku čísly 1 až 9 podle pravidel klasického sudoku.

Číslo okolo bílého ciferníku jsou seřazena podle velikosti ve směru hodinových ručiček.

Číslo okolo černého ciferníku jsou seřazena podle velikosti proti směru hodinových ručiček.

Všechny ciferníky jsou vyznačeny.

9	5
1	3
5	4



KP CI 6

# Ciferníky

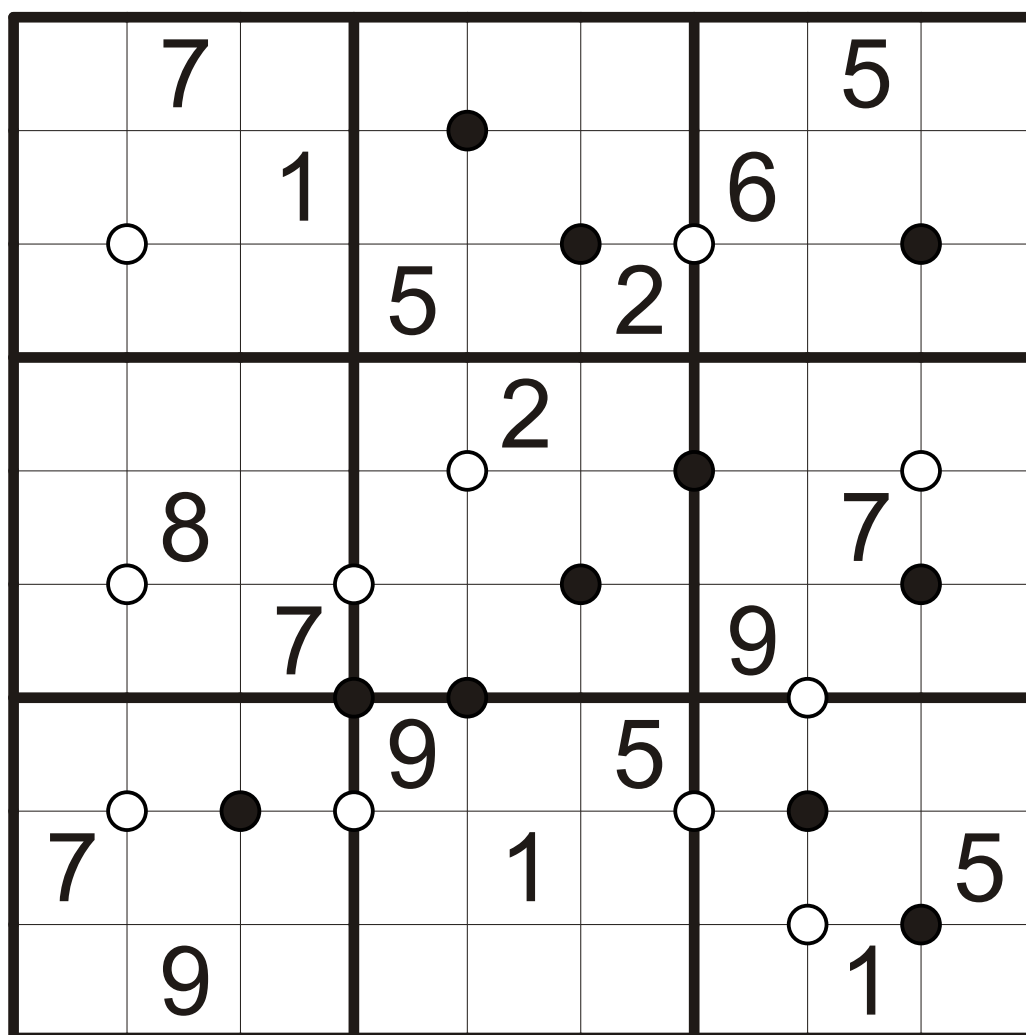
Vyplňte tabulku čísly 1 až 9 podle pravidel klasického sudoku.

Číslo okolo bílého ciferníku jsou seřazena podle velikosti ve směru hodinových ručiček.

Číslo okolo černého ciferníku jsou seřazena podle velikosti proti směru hodinových ručiček.

Všechny ciferníky jsou vyznačeny.

9	5
1	3
5	4



KP CI 7

# Ciferníky

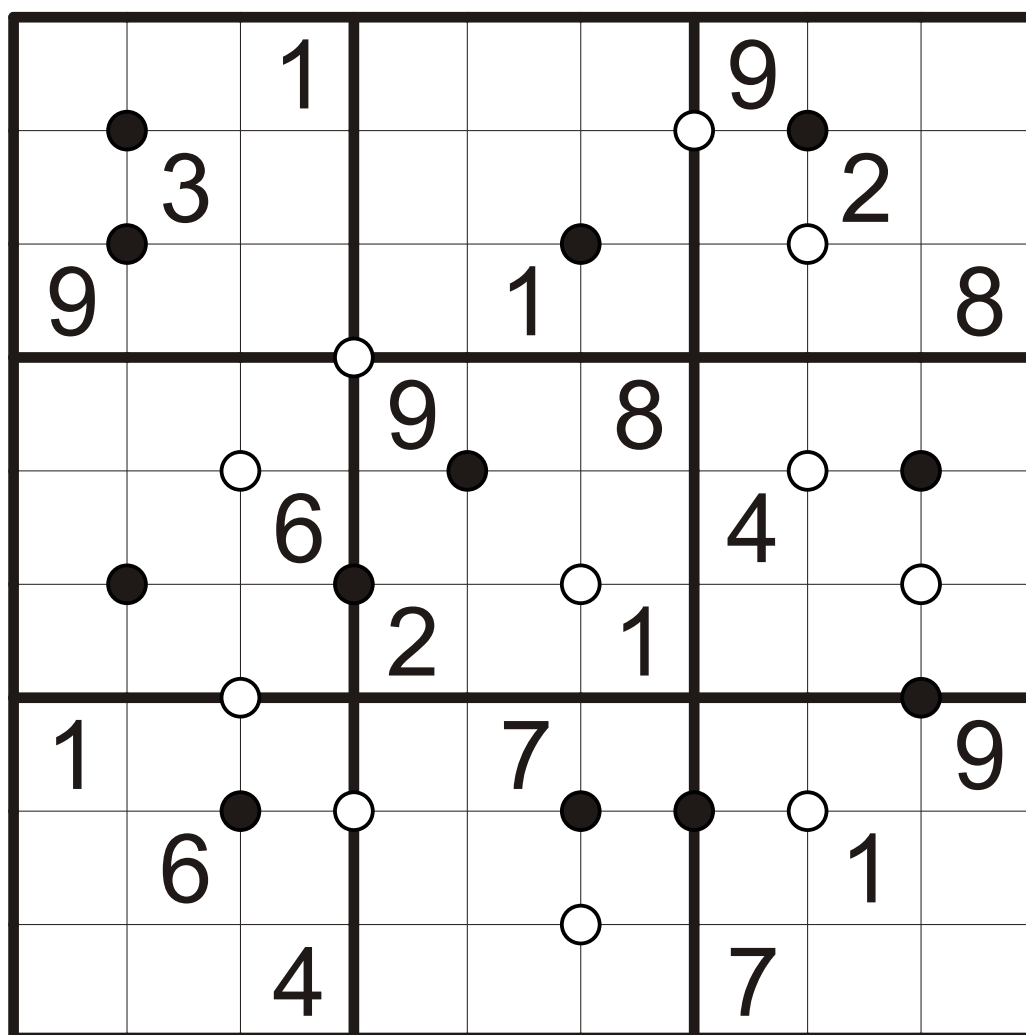
Vyplňte tabulku čísly 1 až 9 podle pravidel klasického sudoku.

Číslo okolo bílého ciferníku jsou seřazena podle velikosti ve směru hodinových ručiček.

Číslo okolo černého ciferníku jsou seřazena podle velikosti proti směru hodinových ručiček.

Všechny ciferníky jsou vyznačeny.

9	5
1	3
5	4



KP CI 8



# Ciferníky

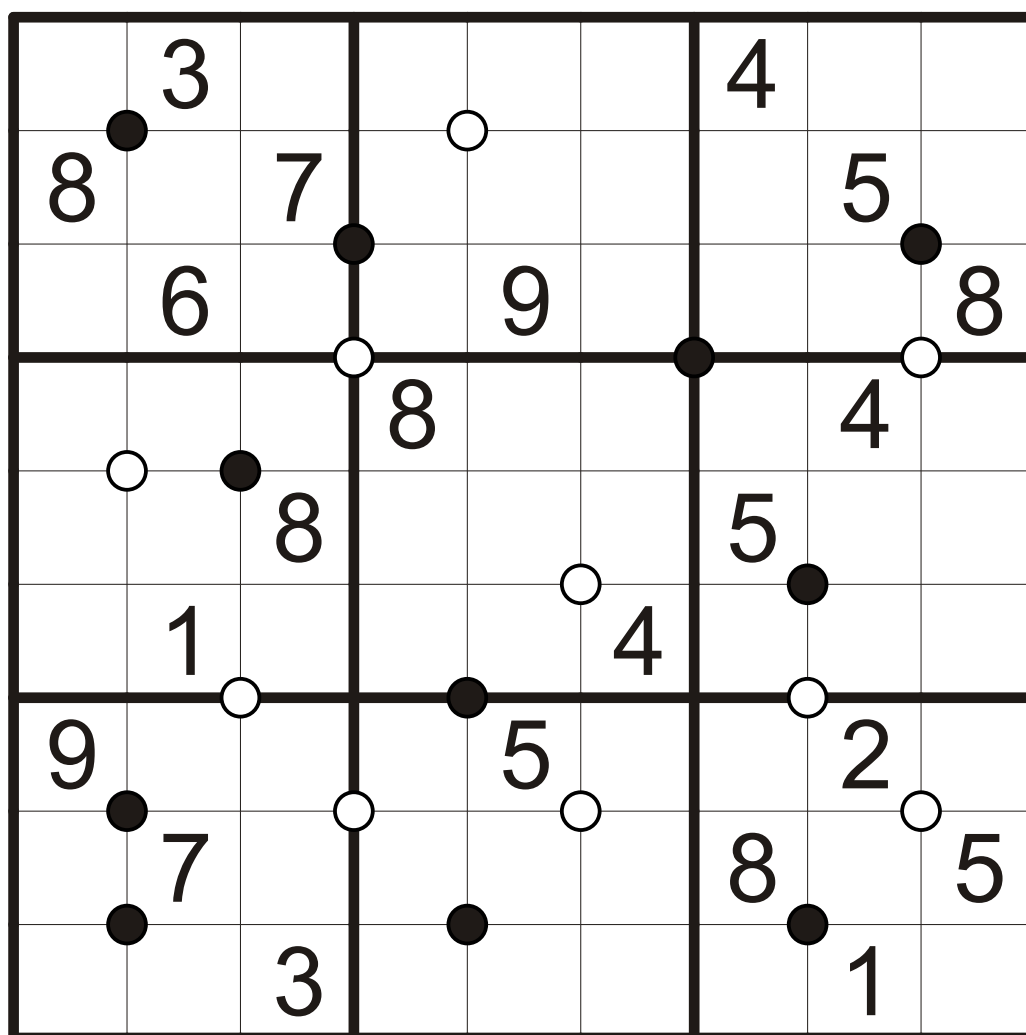
Vyplňte tabulku čísly 1 až 9 podle pravidel klasického sudoku.

Číslo okolo bílého ciferníku jsou seřazena podle velikosti ve směru hodinových ručiček.

Číslo okolo černého ciferníku jsou seřazena podle velikosti proti směru hodinových ručiček.

Všechny ciferníky jsou vyznačeny.

9	5
1	3
5	4



KP CI bonus

6	1	8	3	2	4	7	5	9
5	9	3	8	6	7	2	4	1
7	2	4	1	5	9	3	6	8
4	6	5	2	3	1	9	8	7
1	7	9	5	4	8	6	2	3
8	3	2	9	7	6	5	1	4
3	4	6	7	8	5	1	9	2
9	8	7	6	1	2	4	3	5
2	5	1	4	9	3	8	7	6

KP CI 1

3	8	2	9	5	4	7	1	6
6	5	1	2	7	8	4	9	3
7	9	4	3	6	1	2	8	5
9	3	8	1	2	7	6	5	4
1	4	7	6	8	5	3	2	9
2	6	5	4	9	3	8	7	1
5	1	6	7	3	2	9	4	8
8	2	3	5	4	9	1	6	7
4	7	9	8	1	6	5	3	2

KP CI 2

4	6	5	1	2	3	8	7	9
9	8	2	6	7	4	3	1	5
7	3	1	5	9	8	4	2	6
3	5	8	9	1	2	7	6	4
2	9	7	4	8	6	1	5	3
1	4	6	7	3	5	2	9	8
5	2	9	3	4	7	6	8	1
8	1	3	2	6	9	5	4	7
6	7	4	8	5	1	9	3	2

KP CI 3

6	2	5	1	3	4	9	8	7
7	8	3	9	2	6	5	4	1
4	9	1	5	8	7	3	2	6
5	4	9	7	1	8	2	6	3
8	3	6	4	5	2	7	1	9
2	1	7	3	6	9	4	5	8
1	7	2	8	4	3	6	9	5
3	5	4	6	9	1	8	7	2
9	6	8	2	7	5	1	3	4

KP CI 4

5	2	8	9	3	6	1	4	7
4	9	3	1	8	7	2	5	6
1	7	6	2	4	5	9	8	3
2	6	7	5	9	1	4	3	8
3	1	4	8	6	2	5	7	9
9	8	5	4	7	3	6	2	1
7	3	2	6	1	4	8	9	5
6	5	9	3	2	8	7	1	4
8	4	1	7	5	9	3	6	2

KP CI 5

2	4	7	9	5	1	3	6	8
3	1	8	7	2	6	4	5	9
9	6	5	8	4	3	2	7	1
5	3	1	2	7	9	6	8	4
7	2	6	1	8	4	5	9	3
4	8	9	3	6	5	7	1	2
8	7	3	6	1	2	9	4	5
6	5	2	4	9	8	1	3	7
1	9	4	5	3	7	8	2	6

KP CI 6

4	7	2	1	8	6	3	5	9
9	5	1	3	7	4	6	2	8
8	6	3	5	9	2	1	4	7
6	3	4	7	2	9	5	8	1
5	8	9	4	3	1	2	7	6
2	1	7	6	5	8	9	3	4
1	2	8	9	4	5	7	6	3
7	4	6	2	1	3	8	9	5
3	9	5	8	6	7	4	1	2

KP CI 7

6	4	1	8	2	5	9	3	7
7	3	8	6	9	4	1	2	5
9	2	5	7	1	3	6	4	8
4	1	3	9	6	8	5	7	2
2	8	6	3	5	7	4	9	1
5	7	9	2	4	1	8	6	3
1	5	2	4	7	6	3	8	9
3	6	7	5	8	9	2	1	4
8	9	4	1	3	2	7	5	6

KP CI 8

5	3	2	7	1	8	4	9	6
8	9	7	6	4	2	1	5	3
4	6	1	5	9	3	2	7	8
7	2	9	8	3	5	6	4	1
6	4	8	2	7	1	5	3	9
3	1	5	9	6	4	7	8	2
9	8	6	1	5	7	3	2	4
1	7	4	3	2	9	8	6	5
2	5	3	4	8	6	9	1	7

KP CI bonus